



SOCIALES

Descargas gratuitas
50 preguntas

11°

Términos y Condiciones de Uso

ASESORÍAS ACADÉMICAS MILTON OCHOA pone a la disposición de la comunidad educativa y del público en general, **DE FORMA GRATUITA** este material. Queda prohibido el uso o publicación total o parcial de este material con fines de lucro.

Si tiene conocimiento de alguna utilización contraria a lo establecido en estas condiciones de uso, por favor infórmenos al correo callcenter@miltonochoa.com.co.



1. Entre los siglos XVI y XVIII los imperios español, portugués e inglés ejercían estrictos controles económicos para garantizar la existencia de amplios mercados para sus manufacturas en América, mientras fomentaban la producción de minerales preciosos y alimentos o materias primas de origen animal y vegetal. En la actualidad, las principales consecuencias de la economía colonial se observan en

- A. la solidez de España, Portugal e Inglaterra como potencias industriales.
- B. la dependencia del sector primario en la mayoría de países americanos.
- C. el desarrollo industrial alcanzado por Estados Unidos, Canadá y Brasil.
- D. el mantenimiento de aranceles e impuestos a pesar de la apertura.

2. Durante la segunda mitad del siglo XIX, Perú, Bolivia y Chile se convirtieron en los principales productores de guano y salitre, fertilizantes que tenían gran demanda a nivel mundial. El impulso a esta exportación se relacionó directamente con la Segunda Revolución Industrial porque

- A. la demanda de alimentos y materias primas causaba el agotamiento de los suelos.
- B. el mercado decayó cuando se desarrollaron fertilizantes artificiales en los laboratorios.
- C. en la segunda década del siglo XX se abrió el canal de Panamá el cual mejoró las conexiones.
- D. los centros de mayor demanda eran Inglaterra, Francia, Alemania y Estados Unidos.

3. La reducción de aranceles que forma parte de los procesos de apertura económica en el marco de la globalización ha causado en muchos países la quiebra de diferentes sectores que no pueden hacerle frente a la competencia en precios o calidad.

Sin embargo, para los países que basan su economía en actividades primarias podría representar una oportunidad de desarrollo si

- A. la minería se convierte en el único motor del crecimiento.
- B. se establece una alianza estratégica con un país amigo.
- C. se importan innovaciones tecnológicas y maquinaria.
- D. el sector terciario desplaza al sector primario en mano de obra.

4. Gracias a inventos como la máquina de vapor y la electricidad, la Revolución Industrial impulsó una revolución sin precedentes en los transportes. Las transformaciones resultantes, entre las que se destacaron el ferrocarril, el barco a vapor o los sistemas de refrigeración, permitieron que los países productores de materias primas encontraran mercados cada vez más lejanos sin que los productos perecederos se arruinaran. Una de las economías exportadoras que más beneficios pudo encontrar gracias a estas innovaciones fue

- A. la extracción de cobre en Chile
- B. el café tostado de Brasil.
- C. el tabaco y los habanos de Cuba.
- D. la carne de res de Argentina.



5. Una de las manifestaciones de la globalización es la difusión de la cultura occidental y del estilo de vida europeo y norteamericano. Uno de los inventos que desde mediados del siglo XX contribuyó a esta homogenización de la cultura fue

- A. el automóvil.
- B. la radio.
- C. la televisión.
- D. el avión.

6. Aunque la globalización es el resultado de un largo proceso histórico, varios hechos ocurridos durante las últimas tres décadas del siglo XX llevaron a muchos países a ceder frente a las fuerzas que homogeneizaban los sistemas políticos, las economías y las culturas. Uno de estos acontecimientos fue la desintegración de la Unión Soviética y la caída del bloque socialista que impulsó en el ámbito económico

- A. procesos de privatización y apertura.
- B. a caída de regímenes dictatoriales.
- C. el predominio de la propiedad colectiva.
- D. la formación de varias uniones monetarias.

7. Durante las dos primeras revoluciones industriales los países latinoamericanos y las regiones intertropicales de Asia y África se convirtieron en productores principales de alimentos y materias primas de origen agrícola. La mayor demanda y los más altos volúmenes de exportación fueron alcanzados por productos como el tabaco, el añil, la quina, el algodón, el cacao, el café y el azúcar. Aunque esta división internacional del trabajo tiene raíces en el periodo colonial, también se relaciona con las condiciones ambientales de estas áreas porque

- A. por su origen geológico cuentan con yacimientos mineros rentables.
- B. muchas plantas fueron introducidas tras procesos de conquista y colonización.
- C. las características climáticas impedían el desarrollo de otras actividades.
- D. estos productos tropicales no se podían cultivar con éxito en latitudes medias.

8. La producción artesanal y manufacturera de los países latinoamericanos se ha visto afectada por procesos de apertura que inundan el mercado con artículos elaborados a escala industrial y a menor costo que, si bien benefician los bolsillos de los consumidores, pueden causar la crisis económica en diversos sectores. Una alternativa viable para solucionar la problemática de los productores sin afectar a los consumidores sería

- A. cancelar los acuerdos internacionales mientras modernizan sus técnicas e instrumentos.
- B. establecer contactos con mercados externos donde sus artículos tengan alta demanda.
- C. diseñar un esquema de subsidios temporales mientras encuentran otra fuente de ingresos.
- D. fijar nuevos impuestos para financiar a los artesanos de forma que mejoren sus artículos.



9. “La Deuda Ecológica es la deuda contraída por los países industrializados con los demás países a causa del expolio histórico y presente de los recursos naturales, los impactos ambientales exportados y la libre utilización del espacio ambiental global para depositar sus residuos”.

Martínez-Alier, Joan y otros. 2002. Deuda ecológica: el Norte está en deuda con los países del Sur. Catalunya, UNESCO y RCADE (fragmento).

De acuerdo con el título y la información del anterior texto, es necesario replantear la deuda externa de los países subdesarrollados porque

- A. a lo largo de su existencia, los intereses han hecho que las cifras se multipliquen hasta hacerlas impagables.
- B. han pagado voluntariamente sus obligaciones monetarias con recursos naturales cubriendo el monto total.
- C. la deuda por daño ambiental que han adquirido los países desarrollados supera sus préstamos monetarios.
- D. la deuda ecológica de los países del Norte es exactamente equivalente a la suma que deben los países del Sur.

10. En la mayor parte de los países de América Latina los aumentos salariales fijados anualmente suelen estar muy cerca de la inflación alcanzada el año inmediatamente anterior. Los sectores patronales argumentan que un mayor aumento elevaría los costos de la producción y los precios, desestimulando la generación de empleo. Sin embargo, la estrategia seguida por Brasil, uno de los países con las economías más sólidas de la región, fue elevar los salarios varios puntos por encima de la inflación, con resultados positivos para todas las partes porque

- A. la mayor solvencia económica de los trabajadores eleva el consumo y la producción.
- B. los empresarios se ven obligados a compartir equitativamente las ganancias sobre sus ventas.
- C. el sector trabajador voluntariamente renuncia a los beneficios de la seguridad social y prestaciones.
- D. el gobierno se encarga de cubrir cada una de las obligaciones laborales del sector privado.

11. Para muchos sectores académicos y de opinión, la globalización está directamente relacionada con los proyectos neoliberales. Para otros, los medios de transporte y comunicación son el factor fundamental. Por ejemplo, en relación con la globalización podría plantearse que sin internet

- A. sería imposible efectuar transacciones comerciales internacionales.
- B. no existirían mecanismos para difundir el estilo de vida occidental.
- C. la población de zonas apartadas carecería de servicios educativos.
- D. los flujos internacionales de información serían más lentos.

12. El libre comercio y la intensificación de los intercambios a nivel internacional es una de las características de la globalización. La desigualdad en las transacciones puede llevar a la ruina a muchas economías nacionales. Sin embargo, el comercio internacional es necesario y representa ventajas para la producción y el consumo, sobre todo si se consideran factores geográficos como

- A. la posición geoestratégica de algunos países.
- B. las diferencias de climas y suelos.
- C. la ubicación de capitales en la costa.
- D. las altitudes presentes en un mismo país.



13. En el marco de la globalización política y económica, el Protocolo de Kioto se considera
- A. un acuerdo bilateral.
 - B. una unión monetaria.
 - C. un tratado internacional.
 - D. un organismo supranacional.
14. Aunque el efecto invernadero tiene consecuencias más serias y evidentes en las regiones polares, las metas más altas de reducción de gases se imponen a los países industrializados porque
- A. Groenlandia y el Océano Glaciar Ártico se ubican junto a sus territorios.
 - B. la mayor escasez de agua afecta a sus antiguas colonias en África.
 - C. los países poco industrializados no generan ningún gas invernadero.
 - D. son los mayores consumidores de recursos y generadores de desechos.
15. Para frenar los efectos del calentamiento global, la cooperación entre naciones debe contemplar como alternativa viable, independiente del nivel de desarrollo,
- A. pactos a largo plazo con metas de reducción de gases de invernadero más ambiciosas.
 - B. el abandono definitivo de las actividades industriales junto con programas forestales.
 - C. la creación de bancos genéticos para clonar especies extintas en el futuro.
 - D. la implementación de sistemas de regulación de temperatura en las ciudades.
16. El enfrentamiento entre británicos y franceses por el descubrimiento de Neptuno coincide con la época de
- A. transición entre el Renacimiento y la Ilustración.
 - B. expansión imperial europea en África y Asia.
 - C. la declaración de la Primera Guerra Mundial.
 - D. formación de imperios coloniales en América.
17. La Unión Europea tiene un sistema jurídico y político común y negocia con otros Estados en bloque. La mayor parte de sus Estados miembros utilizan el euro como moneda única y los trabajadores comunitarios se desplazan libremente por el territorio de la Unión. En este sentido, en las relaciones internacionales se considera un ejemplo de
- A. cooperación.
 - B. bilateralismo.
 - C. tratado.
 - D. integración.



18. Uno de los escenarios de mayores conflictos a finales del siglo XX y principios del XXI, ha sido el suroccidente asiático. Las tensiones internas y la intervención de las grandes potencias se relacionan con las potencialidades del territorio porque

- A. es un reservorio para las guerras por agua.
- B. cuenta con grandes yacimientos petrolíferos.
- C. allí reposan los vestigios de Mesopotamia.
- D. aún es la ruta de intercambio del Viejo Mundo.

19. Ante disputas territoriales que se presentan entre países como Colombia y Nicaragua o Bolivia y Chile, se presentan demandas sustentadas en la posesión histórica o en los tratados celebrados entre gobiernos o sus cancilleres. La imprecisión inicial de los límites podría relacionarse con

- A. la falta de métodos cartográficos precisos hasta hoy.
- B. el señalamiento de límites a partir de ríos y bosques.
- C. el desconocimiento del territorio desde la Colonia.
- D. los acuerdos verbales y sin testigos oficiales.

20. Muchos de los conflictos que estallaron en África en la segunda mitad del siglo XX tuvieron sus raíces en la división territorial impuesta por los europeos sin respetar la pertenencia étnica de sus habitantes. En el mismo sentido, el conflicto actual entre Israel y Palestina se originó debido a las políticas contradictorias de Gran Bretaña y al ofrecimiento del territorio en forma simultánea a dos naciones. En consecuencia, es posible concluir que diversos conflictos actuales

- A. se relacionan con la era imperialista.
- B. son producto de diferencias religiosas.
- C. dependen del control de los recursos.
- D. deben resolverse por medio de las potencias.

21. En agosto de 2009 la región separatista de Osetia del sur (Georgia) fue atacada por el gobierno de Georgia, esto fue el culmen de una crisis entre Rusia y Georgia que terminó con la declaración de independencia de Osetia en la cual la mayoría de la población es rusa. El informe hecho por las naciones europeas ha demostrado que Georgia NO tuvo razones de peso para atacar a Osetia y que el conflicto sigue presente amenazando la estabilidad del continente. De lo anterior se puede concluir que

- A. los conflictos en el Cáucaso son consecuencia de la división de la Unión Soviética.
- B. la estabilidad europea depende de la política exterior de la Federación Rusa.
- C. los estados resultantes de la división soviética mantienen conflictos étnicos.
- D. los problemas internos de cada Estado deben ser resueltos por extranjeros.



22. La Unión Europea se creó como un organismo de cooperación entre las naciones europeas de Occidente, aunque la Unión **NO** implicó la supresión de los estados, sí ha manejado un lineamiento político claro que se ha hecho evidente en la actual crisis económica, con la imposición de las recomendaciones de austeridad en varios países del continente para evitar la caída de toda la zona. De acuerdo con lo anterior, se puede decir que la Unión Europea

- A. es manejada por los países líderes de la región.
- B. trata de mantener la estabilidad de sus miembros.
- C. impone las políticas neoliberales en Europa.
- D. coopera en la financiación del gasto público.

23. Las llamadas revoluciones democráticas del norte de África que iniciaron el presente año han sido ampliamente respaldadas por Estados Unidos, lo que representa una oportunidad de aumentar su presencia en la región porque

- A. la oposición pretende entregar el territorio a quien pueda pagarlo.
- B. desde los cincuenta el país tiene bases militares en esos países.
- C. es el único país que cuenta con los recursos para invadir la zona.
- D. ha mostrado su completo apoyo a los movimientos de oposición.

24. En febrero de 2011, el investigador sobre la globalización John Parker declaró en una entrevista para la revista The Economist que para enfrentar la crisis de producción de alimentos se debe pensar en los suelos africanos como probables zonas de cultivo. Esta solución podría ser ventajosa para el continente porque

- A. se podrían crear empresas nacionales que ofrezcan mejores condiciones a los africanos.
- B. se intensificaría la lucha de las potencias por apropiarse de la producción agrícola africana.
- C. se acabarían las condiciones de biodiversidad y conservación de especies del continente.
- D. se generaría una disminución de la corrupción y los conflictos étnicos entre los africanos.

25. En el siguiente mapa se puede ver que la Federación Rusa se encuentra excluida de la organización militar.

Países miembros de la OTAN





Si se tiene en cuenta que la OTAN fue creada previo al inicio de la guerra Fría entre Estados Unidos y Rusia se puede concluir que la organización

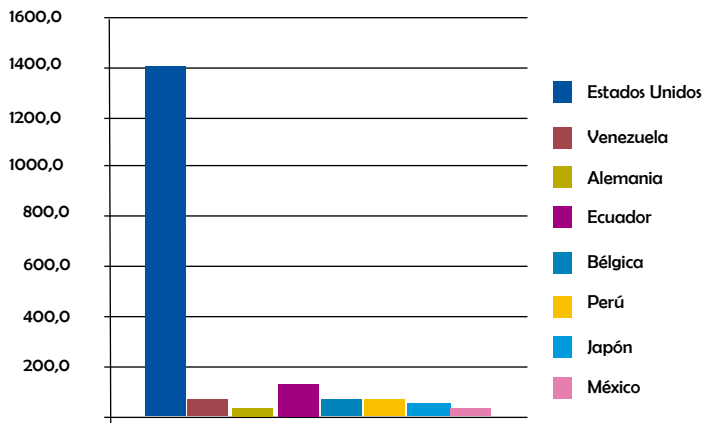
- A. preserva los valores democráticos de sus países miembros.
- B. inicia los conflictos bélicos en los países de oriente medio.
- C. ha mantenido el rechazo a los países de Europa oriental.
- D. fue una forma de limitar el avance de la Unión Soviética.

26. Muchos países de África fueron colonias hasta la mitad del siglo XX, esto produjo una alta dependencia de la población africana pues sus países se limitaron a la producción de bienes primarios para las industrias europeas. Si aún se mantiene la situación de dependencia se puede concluir que

- A. sesenta años son insuficientes para crear una producción industrial fuerte.
- B. la economía del continente se mantiene en el sector primario.
- C. los africanos carecen de personal calificado para el fomento industrial interno.
- D. los europeos han establecido relaciones inequitativas con los demás países.

27.

Socios comerciales de Colombia

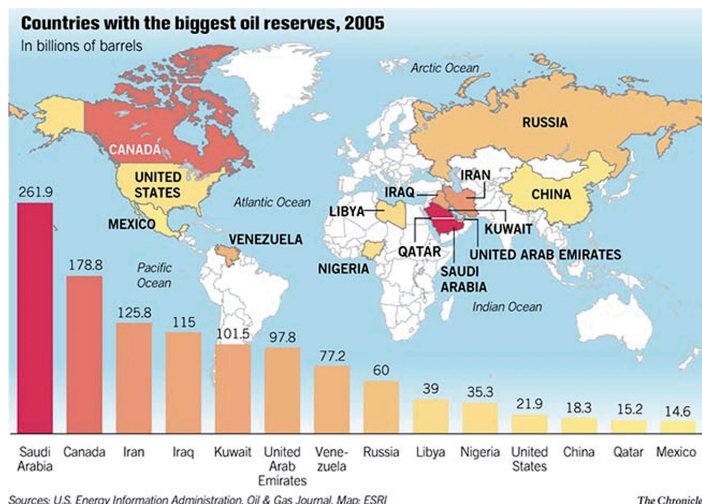


A partir de la información de la siguiente gráfica, si Estados Unidos decidiera acabar sus relaciones comerciales con Colombia nuestro país

- A. vendería su patrimonio para tener reservas.
- B. buscaría socios comerciales en la región.
- C. atravesaría una crisis social y económica.
- D. se convertiría en un país independiente.



28. En el siguiente mapa, la zona encerrada en el círculo es la principal región de conflictos militares internacionales. Esta situación se presenta por



- A. obtener el control de los recursos energéticos.
- B. las fluctuaciones en los precios del petróleo.
- C. las dictaduras que se apoderaron de esos países.
- D. depender de recursos NO renovables.

29. En el año 2000 se constituyó la Unión Africana como una organización supranacional la cual señala que su visión es formar “un África integrada, próspera y pacífica, dirigida por sus propios ciudadanos y representando una fuerza dinámica en el marco global”
De acuerdo con la visión de la Unión Africana es correcto afirmar que

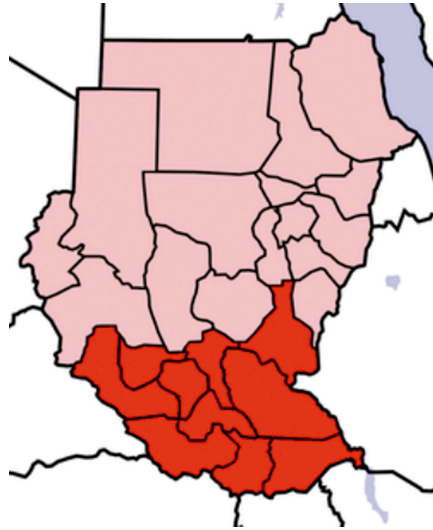
- A. la integración acabará con las naciones.
- B. se siente el control de agentes externos.
- C. tienen pretensiones expansionistas.
- D. deben reforzar la formación política.

30. La presencia militar de los aliados en Afganistán lleva una década, lo cual crea un lazo de dependencia del país asiático con las potencias de la OTAN ya que

- A. los gobernantes son pagados por las potencias.
- B. los niños aprenden a vivir del humanitarismo.
- C. los habitantes se acostumbraron a los soldados.
- D. la defensa del país está en manos extranjeras.



31 Según el mapa, la separación de este país se debió a la colonización inglesa del pasado siglo porque Inglaterra trataba a las dos regiones de manera distinta. En conclusión los rezagos del pasado colonial afectan el fortalecimiento de los países africanos porque



- A. los ingleses necesitan los recursos de Sudán.
- B. los africanos deben reforzar sus lazos exteriores.
- C. el colonialismo fomentó las divisiones culturales.
- D. la visión de la Unión Africana ha avanzado poco.

32 La reconstrucción de Irak debe sanar las heridas de las familias que se han visto afectadas por la guerra, para ello las potencias que se encuentran allí deberían

- A. crear planes de perdón y reparación a las víctimas.
- B. salir del país sin pronunciarse sobre sus actos.
- C. construir centros de tratamientos psiquiátricos.
- D. comprar petróleo sólo a Irak para mostrar apoyo.

33 Los colores de la bandera palestina representan cuatro dinastías árabes distintas, lo cual reclama una identidad que se enfrenta a la

- A. pérdida progresiva de sus creencias.
- B. difusión del pensamiento occidental.
- C. expansión del radicalismo musulmán.
- D. imposición del estado judío de Israel.



34. Cuando el autor hace referencia al trasvase de las lealtades ciudadanas de los Estados Miembros al nivel global, quiere decir que

- A. los estados se están debilitando por la participación en uniones.
- B. las naciones son una institución anacrónica que debe superarse.
- C. los ciudadanos están dispuestos a traicionar los valores patrios.
- D. las organizaciones supranacionales superarán el ideario nacional.

35. La tercera revolución industrial se refiere a la producción descentralizada de productos relacionados con las nuevas tecnologías. En Colombia, la producción se concentra en la minería, la agricultura, la extracción de petróleo y sus derivados, es decir está por fuera de la tercera revolución industrial, lo cual recuerda la historia del siglo XIX porque, en tal época, el país

- A. permanecía en guerras frenando el desarrollo.
- B. cultivó y vendió tabaco durante todo el siglo.
- C. dependía de los productos industriales ingleses.
- D. protegió la producción artesanal de alimentos.

36. El neofuncionalismo se puede concebir como un avance para la solución de conflictos limítrofes porque

- A. inicia por las uniones políticas de los estados.
- B. impone un gobierno que supera las fronteras.
- C. existe una relación entre lo global y lo local.
- D. renueva las divisiones limítrofes nacionales.

37. Observa la siguiente imagen:

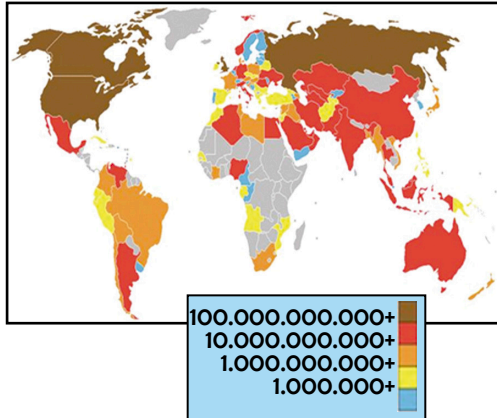


La palabra que se relaciona con la imagen es

- A. chovinismo.
- B. imperialismo.
- C. geopolítica.
- D. estrategia.



38. Observa el siguiente mapa de Producción de gas en el mundo, 2007. Siendo Rusia el mayor productor de gas en Europa, se puede esperar que este país



- A. imponga condiciones a los Balcanes.
- B. mantenga independencia energética.
- C. exporte a precios altos a América.
- D. tenga recursos en caso de una guerra.

39. La expansión europea en América durante el siglo XV fue el inicio de

- A. tres siglos de colonialismo.
- B. la globalización tecnológica.
- C. la exterminación indígena.
- D. el saqueo de los minerales.

40. El oro y la plata de América sirvieron para financiar la industrialización inglesa porque

- A. España le compraba a Inglaterra.
- B. Inglaterra saqueó a los europeos.
- C. Europa se repartía los botines.
- D. En el norte estaban las minas.

RESPONDA LAS PREGUNTAS 41 A 44 DE ACUERDO CON EL SIGUIENTE TEXTO

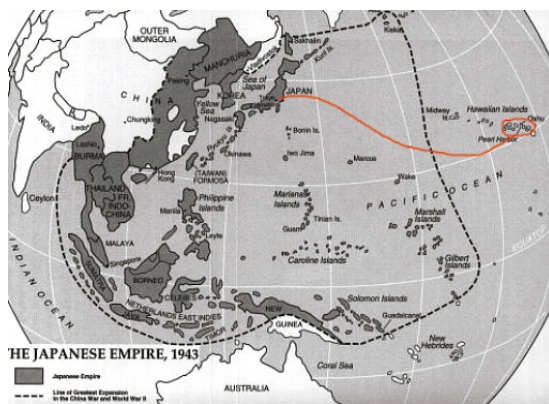
“Las fronteras exteriores NO son naturales y carecen de cualquier tipo de control por lo que son proclives al tráfico ilegal de armas, drogas y personas.”

(Fragmento de análisis geopolítico de Afganistán)



41. De acuerdo con esto se puede concluir que
- A. es necesario construir muros limítrofes para la protección.
 - B. las fronteras naturales hacen más difícil el paso de cosas.
 - C. los talibanes pueden esconderse en los países vecinos.
 - D. es importante que un país extranjero controle las fronteras.
42. La falta de límites naturales puede servir para
- A. tender lazos familiares entre etnias.
 - B. consolidar el comercio entre vecinos.
 - C. invadir los países vecinos peligrosos.
 - D. facilitar el transporte en Asia Central.
43. A comienzos del siglo XV se propagaba la doctrina religiosa de Lutero en Alemania, al tiempo que avanzaba en América la conquista y la
- A. cristianización.
 - B. transfiguración.
 - C. aculturación.
 - D. civilización.
44. En una de sus 95 tesis Lutero señalaba que “mera doctrina humana predicar aquellos que se aseveran que tan pronto suena la moneda que se echa en la caja, el alma sale volando”. Esta tesis permite que el luteranismo agregue a sus filas creyentes católicos pues
- A. los pastores luteranos recibían las donaciones de los feligreses.
 - B. las iglesias católicas eran las principales prestamistas del Estado.
 - C. los luteranos ofrecían los servicios religiosos de forma gratuita.
 - D. los clérigos católicos cobraban por la salvación de las almas.

RESPONDA LAS PREGUNTAS 45 Y 46 DE ACUERDO CON EL SIGUIENTE MAPA





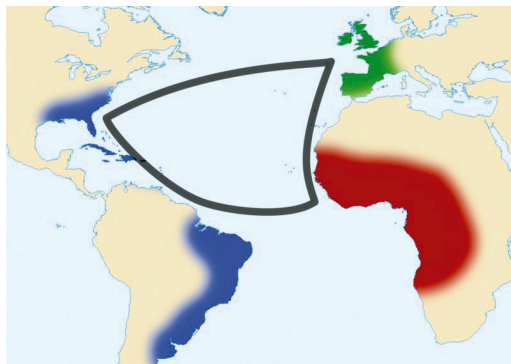
45. De acuerdo con la imagen se puede afirmar que Pearl Harbor (encerrado en el círculo) era un punto muy importante para los Estados Unidos porque

- A. tenía una población guerrera.
- B. era el acceso aéreo a Japón.
- C. desde allí podría atacar Asia.
- D. era el lugar para el descanso.

46. Como se observa en la imagen Japón tenía el control sobre gran parte de las islas cercanas, con lo cual aseguraba su territorio. Sin embargo, esto se hizo bajo la opresión de la población nativa. Para evitar lo anterior Japón hubiera podido

- A. salir de la guerra antes del avance de los europeos.
- B. evitar convertirse en uno de los países desafiantes.
- C. contratar las fuerzas militares para defender las islas.
- D. firmar acuerdos de protección militar con los países.

RESPONDA LAS PREGUNTAS 47 Y 48 DE ACUERDO CON EL SIGUIENTE MAPA



47. La zona verde comprende la salida de barcos europeos hacia África para capturar esclavos que eran llevados a América a trabajar en haciendas y minas. Los productos consiguientes de estas actividades

- A. resultaban muy baratos porque los esclavos trabajaban obligados.
- B. debían pasar por una revisión antes de ser consumidos en Europa.
- C. estaban cargados de una historia de opresión y saqueo en África.
- D. eran llevados a Europa como materias primas de las manufacturas.

48. Los lugares sombreados con azul fueron los que recibieron mayor cantidad de esclavos por lo cual

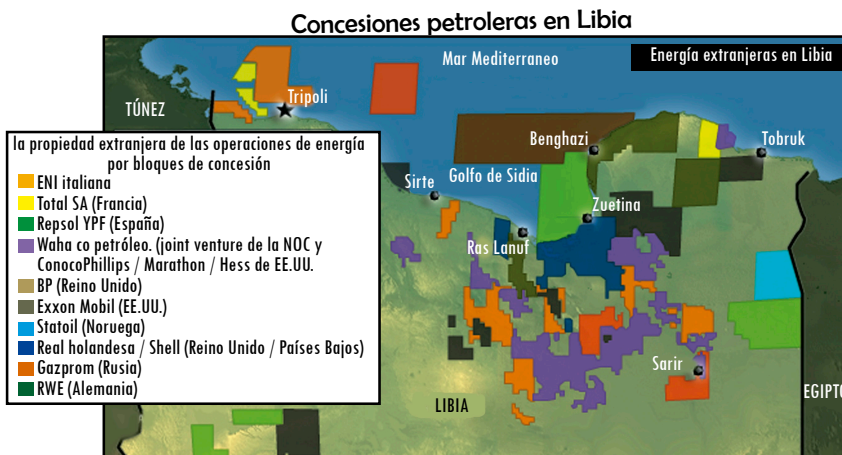
- A. en unos cuantos años la población mayoritaria era africana.
- B. las rebeliones africanas fueron más fuertes que en México.
- C. se establecieron más palenques y quilombos en las selvas.
- D. los ritos religiosos africanos se mezclaron con los católicos.



49. Los tratados de libre comercio parten de la base de reconocer la existencia de los estados partícipes, es decir que

- A. los ejércitos deben intervenir para salvaguardar los intereses.
- B. las empresas deben pedir el auxilio de los países extranjeros.
- C. los gobiernos son los únicos que pueden negociar un tratado.
- D. las posibilidades comerciales nacionales se deben balancear.

RESPONDA LA PREGUNTA 50 DE ACUERDO CON LA SIGUIENTE GRÁFICA



50. Las naciones que tienen concesiones son las mismas que están aliadas en el cerco aéreo impuesto a Libia. Esto implica que

- A. donde estén los intereses nacionales se debe imponer la defensa.
- B. más allá de apoyar a la oposición están protegiendo sus intereses.
- C. los dictadores musulmanes han amenazado la seguridad nacional.
- D. un conflicto interior es peligroso cuando hay empresas extranjeras.



Respuesta Sociales 11°

N°
1
2
3
4
5
6
7
8
9
10
11
12
13
14
15
16
17
18
19
20
21
22
23
24
25

RESPUESTAS
B
A
C
D
C
A
D
B
C
A
D
B
C
D
A
B
D
B
C
B
C
B
D
A
D

N°
26
27
28
29
30
31
32
33
34
35
36
37
38
39
40
41
42
43
44
45
46
47
48
49
50

RESPUESTAS
B
C
A
B
D
C
A
D
D
C
A
C
B
A
A
B
D
A
D
C
D
D
A
C
B

















